

SECRETARIA MUNICIPAL DE EDUCAÇÃO

ATIVIDADES COMPLEMENTARES DE ESTUDO – COVID 19

24º ROTEIRO DE ATIVIDADES COMPLEMENTARES DE ESTUDO – COVID 19

ALUNO (A): _____

ESCOLA MUNICIPAL PARIGOT DE SOUZA

PROFESSOR: CELIA VERRI E SUELI DUTRA

TURMA: SRM () MATUTINO () VESPERTINO

COMPONENTES CURRICULARES: LÍNGUA PORTUGUESA E MATEMÁTICA

PERÍODO DE REALIZAÇÃO: 19/10/2020 A 23/10/2020

ESTE É O **24º ROTEIRO DE ATIVIDADES** PARA SER REALIZADO NA SEMANA DE 19/10/2020 A 23/10/2020.

ATENTE-SE À EXPLICAÇÃO DA PROFESSORA NO GRUPO DA TURMA E PEÇA AJUDA PELO WHATSAPP SEMPRE QUE PRECISAR!!!

UM ABRAÇO, PROFESSORAS.

O QUE VOCÊ VAI ESTUDAR:	<ul style="list-style-type: none">• LÍNGUA PORTUGUESA: COMPREENSÃO E INTERPRETAÇÃO DE TEXTO, AMPLIAÇÃO VOCABULAR, CONCORDÂNCIA NOMINAL E VERBAL, CONSTRUÇÃO DO SISTEMA DE ESCRITA ALFABÉTICA.• MATEMÁTICA: NÚMEROS NATURAIS ATÉ 60: CONTAGEM, LEITURA, ESCRITA E SEQUÊNCIAÇÃO, PRINCÍPIOS: ADITIVO, POSICIONAL, DECIMAL, UNIDADE E DEZENA (AGRUPAMENTOS), LATERALIDADE.
PARA QUE VAMOS ESTUDAR ESSES CONTEÚDOS?	<ul style="list-style-type: none">• DESENVOLVER A ATENÇÃO E O RACIOCÍNIO.• ESCREVER PALAVRAS.• ANALISAR IMAGEM.• DESENVOLVER A LEITURA.• AMPLIAÇÃO DO VOCABULÁRIO E REFLEXÃO SOBRE O SISTEMA DE ESCRITA ALFABÉTICA.
COMO VAMOS REGISTRAR O QUE APRENDEMOS?	<ul style="list-style-type: none">• VAMOS REGISTRAR O QUE APRENDEMOS ATRAVÉS DE RESPOSTAS ESCRITAS NA FOLHA DE ATIVIDADES, RELATOS ESCRITOS E ORAIS, CÁLCULOS ESCRITOS E MENTAIS, ATRAVÉS DE ILUSTRAÇÃO, OBSERVAÇÃO DE TEXTOS E IMAGENS, INTERPRETAÇÃO DE TEXTO.

SECRETARIA MUNICIPAL DE EDUCAÇÃO
ATIVIDADES COMPLEMENTARES DE ESTUDO – COVID 19

TERÇA-FEIRA - 20/10/2020

LÍNGUA PORTUGUESA

LEIA A **NOTÍCIA** E RESPONDA:

NAS REDES SOCIAIS ESTÃO RELATANDO QUE ESTÁ HAVENDO ROUBO DE SAPATOS EM VÁRIAS CASAS NA ALEMANHA. MORADORES NOTARAM QUE OS SAPATOS DEIXADOS NA VARANDA ESTAVAM SUMINDO. UM MORADOR VIU UM ANIMAL COM UM CHINELO AZUL NA BOCA ENTRANDO NA MATA. RESOLVEU SEGUÍ-LO ATÉ A SUA TOCA. LÁ ENCONTROU CERCA DE CEM CALÇADOS. APÓS OS ROUBOS SEREM ESCLARECIDOS, QUEM PERDEU PÔDE RECUPERÁ-LOS NA TOCA DA _____.

A) O ANIMAL QUE ROUBOU OS CALÇADOS MORA EM UMA **TOCA** DENTRO DA **MATA**. EM SUA OPINIÃO, QUAL ANIMAL COMETEU O ROUBO? CIRCULE:



B) CIRCULE DE ONDE FOI RETIRADA ESTA NOTÍCIA?



JORNAL NA TELEVISÃO

REDES SOCIAIS

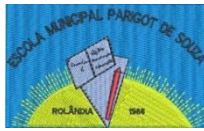
RÁDIO

C) CIRCULE A PALAVRA CORRETA: ESTE TEXTO INFORMA SOBRE UM?

ALEMANHA

ANIMAIS

ROUBO



**SECRETARIA MUNICIPAL DE EDUCAÇÃO
ATIVIDADES COMPLEMENTARES DE ESTUDO – COVID 19**

D) DESENHE O QUE FOI ROUBADO NA NOTÍCIA:

QUARTA-FEIRA - 21/10/2020

MATEMÁTICA

1- COMPLETE A TABELA NUMÉRICA COM OS NÚMEROS NATURAIS DE 1 ATÉ 60:



COMPLETE A ORDEM NUMÉRICA.



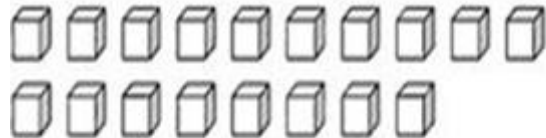
0	1	2	3	4	5	6	7	8	9
10									
20									
30									
40									
50									
60									

**SECRETARIA MUNICIPAL DE EDUCAÇÃO
ATIVIDADES COMPLEMENTARES DE ESTUDO – COVID 19**

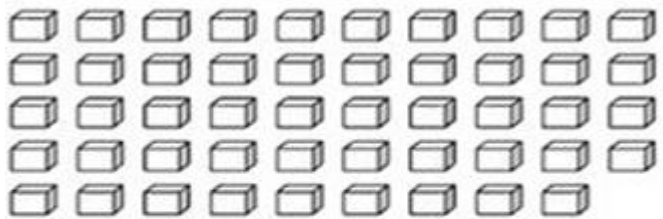
2- FAÇA AGRUPAMENTOS DE DEZ, DEPOIS COLOQUE A DEZENA, UNIDADE E O TOTAL NO QUADRO:

LEMBRANDO:

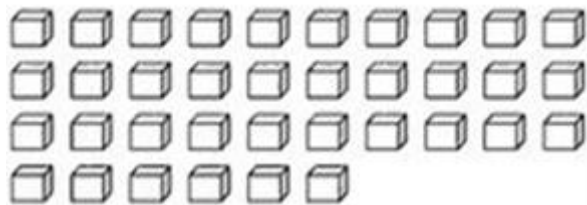
1 DEZENA É IGUAL A 10 UNIDADES.




DEZENAS	UNIDADES	TOTAL



DEZENAS	UNIDADES	TOTAL



DEZENAS	UNIDADES	TOTAL



DEZENA	UNIDADES	TOTAL

2) SE EU TIVER 2 DEZENAS E ACRESCENTAR MAIS 6 UNIDADES, COM QUANTAS UNIDADES EU FICO?

D U

A) 20

B) 16

C) 26

SECRETARIA MUNICIPAL DE EDUCAÇÃO
 ATIVIDADES COMPLEMENTARES DE ESTUDO – COVID 19

QUINTA-FEIRA - 22/10/2020

LÍNGUA PORTUGUESA

JUNTE AS SÍLABAS E FORME PALAVRAS SEGUINDO A NUMERAÇÃO:



RA	1	PO	2	CA	3
VI	4	GA	5	GU	6
LI	7	NA	8	ME	9
SA	10	SO	11	CO	12
PE	13	RI	14	SI	15
GO	16	LO	17	TA	18
RO	19	MU	20	VA	21

3 - 10 - 12

CASACO

5 - 11 - 7 - 8

4 - 15 - 18

6 - 17 - 11

13 - 14 - 16 - 11

20 - 15 - 3

19 - 10

9 - 10

21 - 11

1 - 2 - 10

13 - 11

3 - 10

VAMOS ORDENAR AS SÍLABAS E DESCOBRIR PALAVRINHAS:

RA-PA-SO-FU = _____

GO-SO-PE-RI = _____

SO-LI-NA-GA = _____

JO-SO-CO-RA = _____

SECRETARIA MUNICIPAL DE EDUCAÇÃO
ATIVIDADES COMPLEMENTARES DE ESTUDO – COVID 19

SEXTA-FEIRA - 23/10/2020

MATEMÁTICA

LATERALIDADE

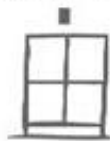


COLOCANDO TUDO NO LUGAR

PEDRINHO PRECISA ORGANIZAR ESTES MATERIAIS, MAS TUDO TEM DE SER COLOCADO NO LUGAR CERTO – VEJA O MODELO E DESENHE AS FIGURAS NO SEU ARMÁRIO.



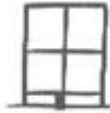
EM CIMA



À DIREITA E NA PARTE DE BAIXO



EM BAIXO



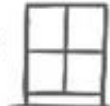
À ESQUERDA E NA PARTE DE BAIXO



À DIREITA E NA PARTE DE CIMA



FORA E DO LADO DIREITO



À ESQUERDA E NA PARTE DE CIMA



FORA E DO LADO ESQUERDO

